


ÜHELISED, KÜMNELISED, SAJALISED


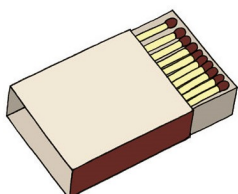


Vaatame, millest koosneb sajaline. Kordame mõisteid *üheline* ja *kümneline*.



100 ÜHELIST = 10 KÜMNELIST = 1 SAJALINE

S	K	Ü
1	0	0



Kirjuta arvud tabelisse.

16, 7, 1, 50, 60, 8, 14, 70, 21,
18, 9, 50, 40, 6, 100.

S	K	Ü
	1	6
		7

Tõmba ühelistele joon ümber.

5 80 13 2 17 10 15 4
7 90 30 16 9 6 20

Tõmba kümnelsele joon alla.

5 80 13 2 17 10 15 4
7 90 30 16 9 6 20

**Mõttele ja kirjuta siia arv,
milles on üks sajaline.** _____

Kirjuta puuduvad täiskümned.

100	90			60	50
		70	60		
	70			40	
70		50			
			30		10
	40	30			